

Name:

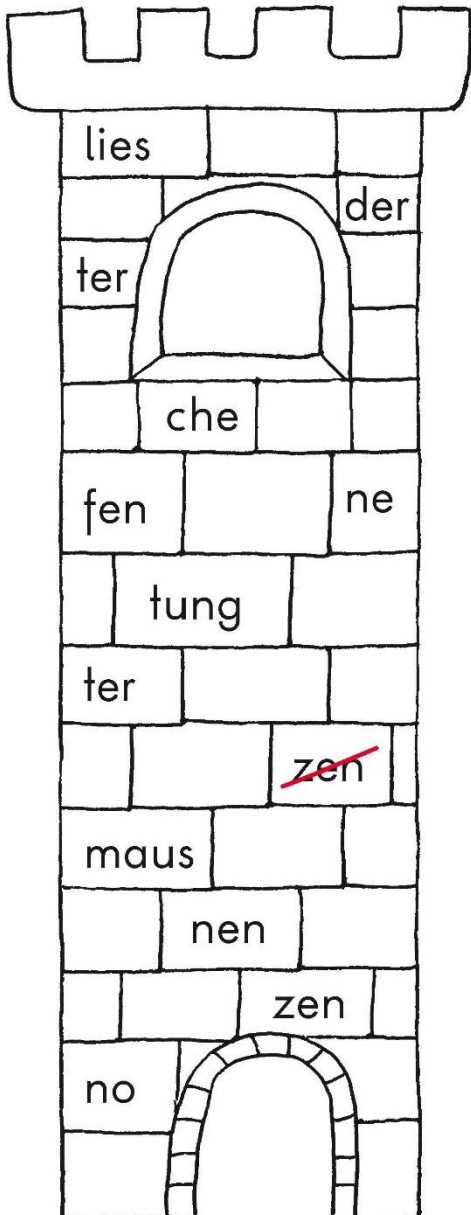
Klasse:

Datum:

Wiederholungsaufgaben aus Klasse 1

Silben finden

 Ergänze die Silben.



- Lan zen
- Ver _____
- Rüs _____
- Rit _____
- Ker _____
- Leuch _____
- Fah _____
- Dra _____
- Stü _____
- Ka _____
- Fle _____

 Was können die Kinder nicht sehen? Kreuze an.

Name:

Klasse:







Datum:

Wiederholungsaufgaben aus Klasse 1

Artikel 1

ein eine

 Trage den richtigen Artikel ein.

<input type="text"/>		<input type="text"/>	
<input type="text"/>		<input type="text"/>	
<input type="text"/>		<input type="text"/>	

 Schreibe die Sätze richtig auf.

Da ist ein  . Da ist eine  .

Name:

Klasse:

Datum:

Wiederholungsaufgaben aus Klasse 1

Artikel 2

der

die

das

 Trage den richtigen Artikel ein.

Reh

Hase

Specht

Waldwiese

Picknick

Regenwurm

Igel

Eule

Fuchs

Jägerstand

Name: _____

Klasse: _____

Datum: _____

Wiederholungsaufgaben aus Klasse 1

Sätze bilden

 Schreibe die Sätze richtig auf.









Wiederholungsaufgaben aus Klasse 1

Rätsel zum Schulbeginn

 Kannst du diese Rätsel lösen?

Es ist ein großes Haus.
Viele Kinder gehen ein und aus.
Sie lernen dort
lesen, schreiben und rechnen.

Es ist ein Mensch.
Er denkt sich viele Aufgaben aus.
Die Kinder hören ihm gut zu
und stellen ihm viele Fragen.

Diese Zeit mögen die Kinder besonders gern.
Sie dürfen dann
essen, trinken, spielen und toben.
Wenn die Glocke läutet,
ist die Zeit vorbei.

Wiederholungsaufgaben aus Klasse 1

Plusaufgaben

1	+	4	6	5	+	2	4	3	+	2	6	1
	3	7			6				4			
	13	17			16				14			

2	$15 + 4 = \underline{\quad}$	$3 + 10 = \underline{\quad}$	$1 + 14 = \underline{\quad}$
	$12 + 7 = \underline{\quad}$	$6 + 10 = \underline{\quad}$	$1 + 16 = \underline{\quad}$
	$14 + 2 = \underline{\quad}$	$9 + 10 = \underline{\quad}$	$1 + 12 = \underline{\quad}$
	$11 + 8 = \underline{\quad}$	$7 + 10 = \underline{\quad}$	$1 + 18 = \underline{\quad}$

3 Wie geht es weiter? Setze fort.

$+ 3$	2					
$+ 4$	0					
$+ \underline{\quad}$	2	4	6			
$+ \underline{\quad}$	1	3	5			



4	<table border="1"> <tr><td></td><td></td><td></td></tr> <tr><td></td><td>6</td><td></td></tr> <tr><td>9</td><td></td><td>3</td></tr> <tr><td></td><td></td><td></td></tr> </table>					6		9		3				<table border="1"> <tr><td></td><td></td><td></td></tr> <tr><td></td><td>9</td><td></td></tr> <tr><td>5</td><td></td><td>7</td></tr> <tr><td></td><td></td><td></td></tr> </table>					9		5		7				<table border="1"> <tr><td></td><td></td><td></td></tr> <tr><td></td><td>4</td><td></td></tr> <tr><td>6</td><td></td><td>8</td></tr> <tr><td></td><td></td><td></td></tr> </table>					4		6		8			
	6																																						
9		3																																					
	9																																						
5		7																																					
	4																																						
6		8																																					

Name: _____

Klasse: _____

Datum: _____

Wiederholungsaufgaben aus Klasse 1

Minusaufgaben

1	-	4	6	3	-	7	4	6	-	2	4	1
	7	3			8				5			
	17				18				15			

2 Welche Aufgaben gehören zusammen? Verbinde.

$3 + 4 = \underline{\quad}$ $7 - 4 = \underline{\quad}$ $20 - 5 = \underline{\quad}$
 $19 - 6 = \underline{\quad}$ $15 + 5 = \underline{\quad}$
 $10 + 7 = \underline{\quad}$ $17 - 7 = \underline{\quad}$
 $13 + 6 = \underline{\quad}$ $11 + 3 = \underline{\quad}$ $14 - 3 = \underline{\quad}$

3

-2 20 — \quad — \quad — \quad — 12 — \quad — \quad
 -3 20 — \quad — \quad — \quad — 5 — \quad — \quad

4

Triangle 1: Top-left \square , Top-right 13 , Bottom 11 , Center 8
 Triangle 2: Top-left 12 , Top-right \square , Bottom 16 , Center 6
 Triangle 3: Top-left 12 , Top-right 13 , Bottom \square , Center 7




Name:




Klasse:

Datum:

Wiederholungsaufgaben aus Klasse 1 – Meine Schultasche

1. **der - die - das**








H f t e		M e p p a a		Sp i t z e r	
------------------	---	----------------------------	--	-----------------------------	---

B c h u		J s e a u		B u t f s t n i t	
------------------	---	-----------------------	--	---	---

P n n e l a		l a F s c h		Sch e r e	
----------------------------	---	----------------------------	--	--------------------	---

2.

ist


- | | | | |
|--------------------------|-------------------------------------|-------------------------------------|---|
| Da ist das Heft. | <input checked="" type="checkbox"/> | <input type="checkbox"/> |  |
| Da ist die Mappe. | <input type="checkbox"/> | <input type="checkbox"/> |  |
| Da _____ das Buch. | <input type="checkbox"/> | <input checked="" type="checkbox"/> |  |
| _____ der Spitzer. | <input type="checkbox"/> | <input type="checkbox"/> |  |
| _____ das Pennal. | <input type="checkbox"/> | <input type="checkbox"/> |  |
| _____ die Schere. | <input type="checkbox"/> | <input type="checkbox"/> |  |
| _____ der Flasche. | <input type="checkbox"/> | <input type="checkbox"/> |  |




Name: _____

Klasse: _____

Datum: _____

Wiederholungsaufgaben aus Klasse 1 – Meine Klasse

1.  **der - die - das**

T i sch  T f e  S e l 
a l e s s

R g l  B l  C m p e r 
a e d i u o t

2.  

Zähle die Gegenstände in deiner Klasse und schreibe die Zahlen auf.

sind

In der Klasse sind _____ Tische.



In der Klasse sind _____ Sessel.



In der _____ Regale.



In _____ Computer.



_____ Bilder.



_____ Mädchen.



_____ Buben.



Name:

Klasse:

Datum:

Wiederholungsaufgaben aus Klasse 1 – In der Klasse



schreiben	lesen	rechnen	malen
singen	turnen	schneiden	kleben



Wir _____ im Buch.

wir **lesen**


Wir _____ im Heft.

_____ im Heft.

_____ ein Bild.

_____ im Turnsaal.

_____ ein Lied.



Name: _____

Klasse: _____

Datum: _____

Wiederholungsaufgaben aus Klasse 1 – Was Kinder tun



Ich _____ im _____.



ich lese

Ich _____ im _____.



_____ ein _____.



_____ ein _____.



_____ mit dem _____.



Irmi malt.

Sie _____.

Susi schreibt.

_____.

Tülin rechnet.

_____.

Rosa liest.

_____.



sie

Martin klebt.

Er _____.

er klebt

Tom schneidet.

_____.

Ali turnt.

_____.

Otto singt.

_____.



er

Name: _____

Klasse: _____

Datum: _____

Wiederholungsaufgaben aus Klasse 1

Mit Zahlen knobeln

$$\begin{array}{l} \text{Apple} + 0 = 15 \\ \text{Apple} - 8 = \text{Tomato} \end{array}$$



$$\begin{array}{l} 9 + \text{Raspberry} = 18 \\ \text{Raspberry} + 5 = \text{Kiwi} \end{array}$$




$$\begin{array}{l} 20 - \text{Apple} = 13 \\ \text{Pear} - \text{Apple} = 6 \end{array}$$



$$\begin{array}{l} 6 + \text{Banana} = 14 \\ \text{Banana} - 5 = \text{Raspberry} \end{array}$$



$$\begin{array}{l} \text{Tomato} + 9 = 16 \\ \text{Tomato} + \text{Lemon} = 18 \end{array}$$



$$\begin{array}{l} 17 - \text{Apple} = 2 \\ \text{Apple} - \text{Cup} = 9 \end{array}$$



$$\begin{array}{l} \text{Watermelon} - \text{Watermelon} = \text{Strawberry} \\ \text{Watermelon} + \text{Watermelon} = 20 \end{array}$$



$$\begin{array}{l} \text{Bean} - \text{Strawberry} = \text{Bean} \\ \text{Bean} - 9 = 8 \end{array}$$



$$\begin{array}{l} 4 + \text{Cup} = \text{Watermelon} \\ \text{Watermelon} + \text{Cup} = 16 \end{array}$$



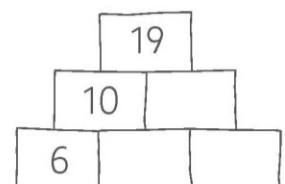
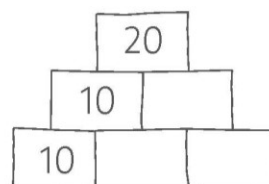
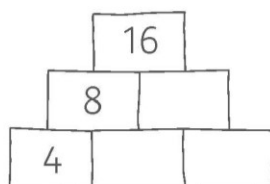
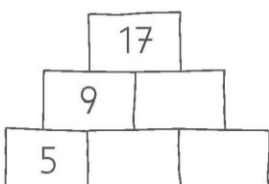
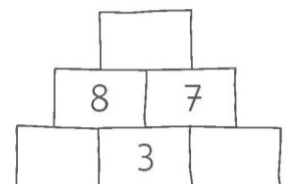
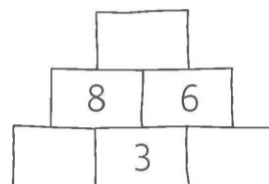
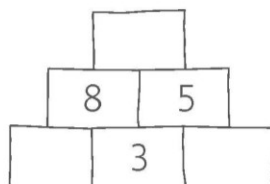
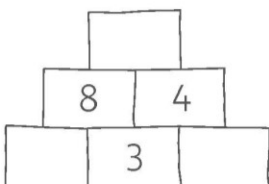
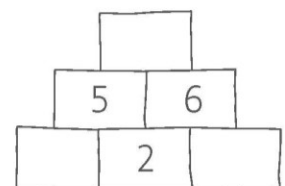
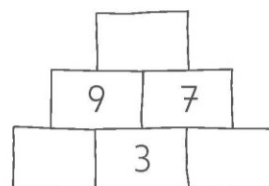
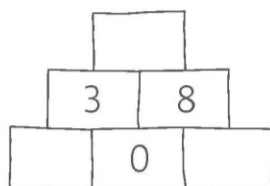
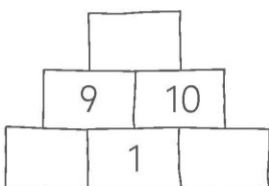
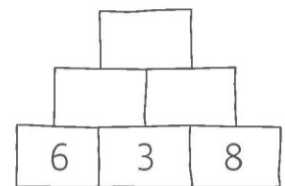
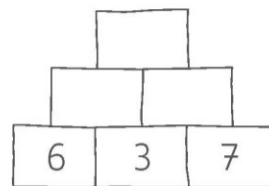
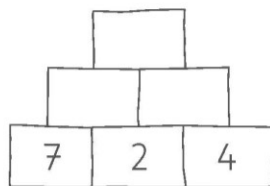
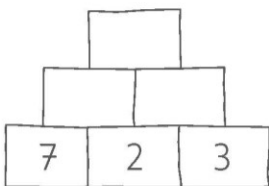
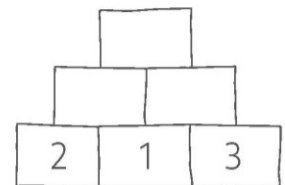
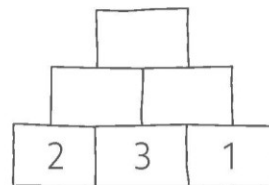
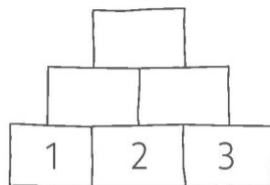
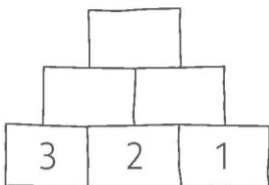
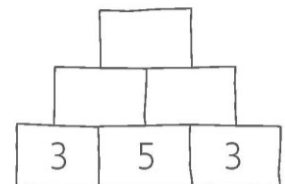
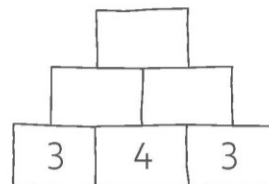
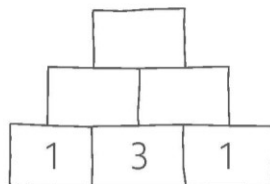
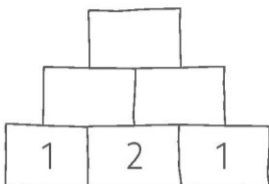
Name:

Klasse:

Datum:

Wiederholungsaufgaben aus Klasse 1

Zahlenmauern




Name: _____

Klasse: _____


Datum: _____

Wiederholungsaufgaben aus Klasse 1


Vermischte Aufgaben




c



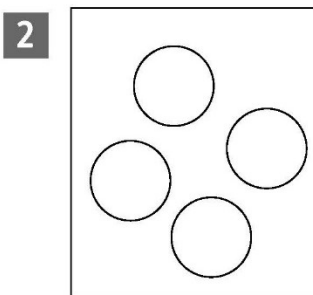
c



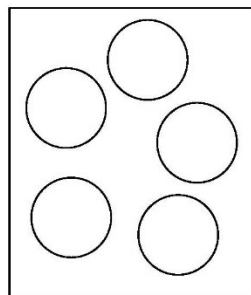
€



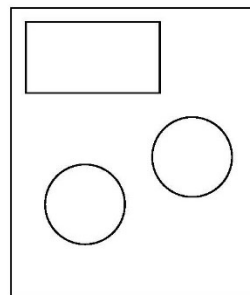
€



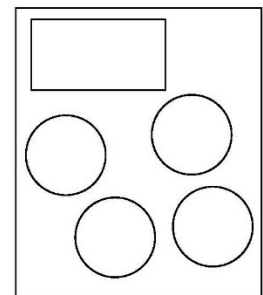
c



c



€



€



7 + 5 =



6 + 8 =



4 + 7 =

4 8 + 3 =

2 + 9 =

5 12 - 4 =

17 - 8 =

6 + 7 =

5 + 7 =

18 - 9 =

14 - 7 =

4 + 9 =

9 + 6 =

15 - 6 =

11 - 2 =

5 + 8 =

7 + 7 =

13 - 5 =

16 - 9 =